

# 同济大学一九九九年硕士生入学考试试题

考试科目: 园林史

编号: 36-1

2

答题要求: 文字、图示清晰、明确

## 一、名词解释(24%)

- |            |          |
|------------|----------|
| 1. 波斯庭园    | 5. 古埃及宅园 |
| 2. 巴洛克建筑风格 | 6. 城市设计  |
| 3. 谐趣园     | 7. 艮岳    |
| 4. 轩       | 8. 日本苔园  |

## 二、填空题(18%)

1. 扬州\_\_\_\_\_因叠石,以四季山石为特色,其中夏山是以\_\_\_\_\_石叠成,秋山则以\_\_\_\_\_石叠成。
2. 世界园林的三大系统是\_\_\_\_\_、\_\_\_\_\_、\_\_\_\_\_。
3. 颐和园佛香阁是三层、\_\_\_\_\_檐、八角形、\_\_\_\_\_顶。
4. 中国木构架建筑有\_\_\_\_\_、\_\_\_\_\_、\_\_\_\_\_、三种结构方式。
5. 清代最典型、最具代表性园中园是\_\_\_\_\_,它是以江南名园寄畅园为蓝本建造的。

6. 在英国\_\_\_\_\_国内建有中国式塔,是由\_\_\_\_\_ (人名)引入的。

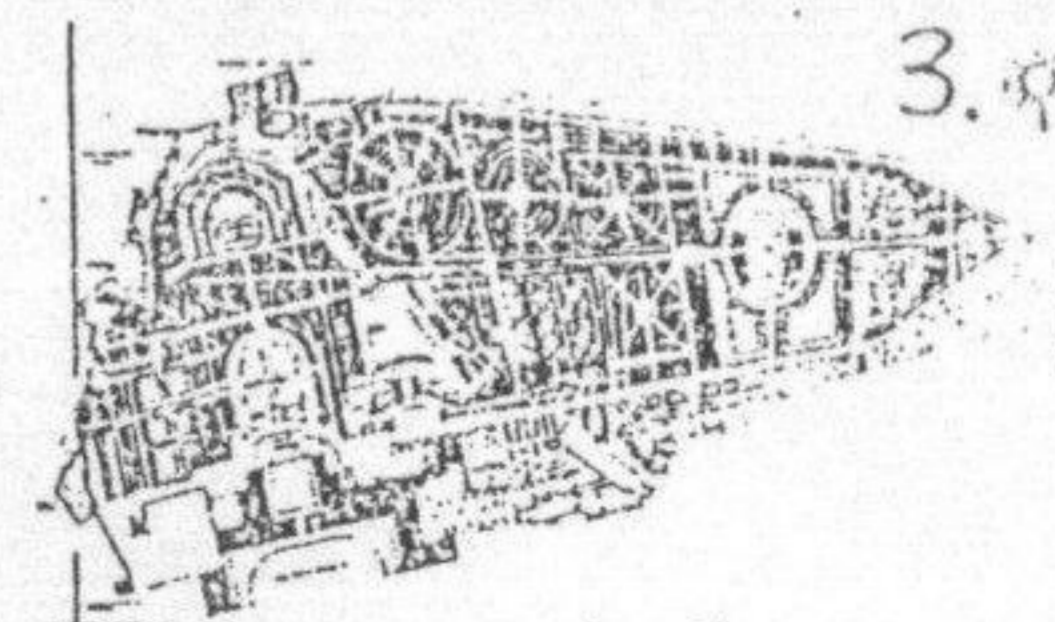
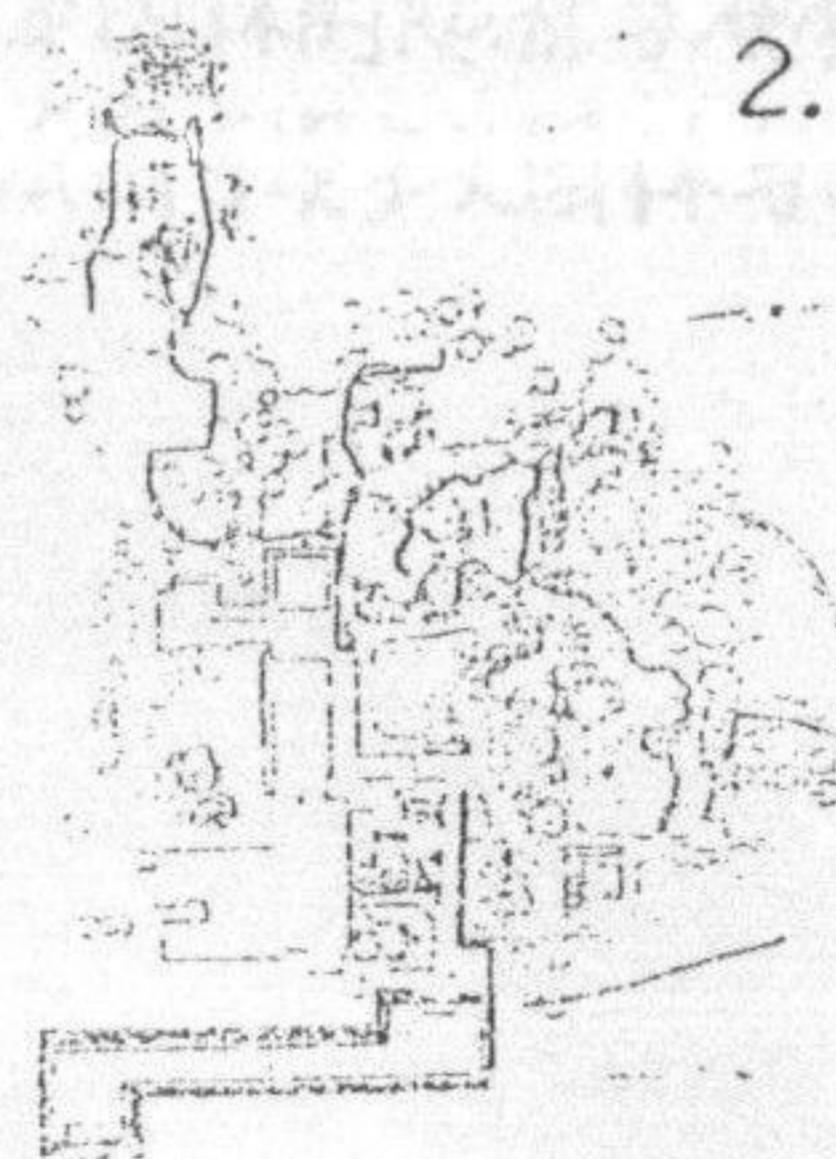
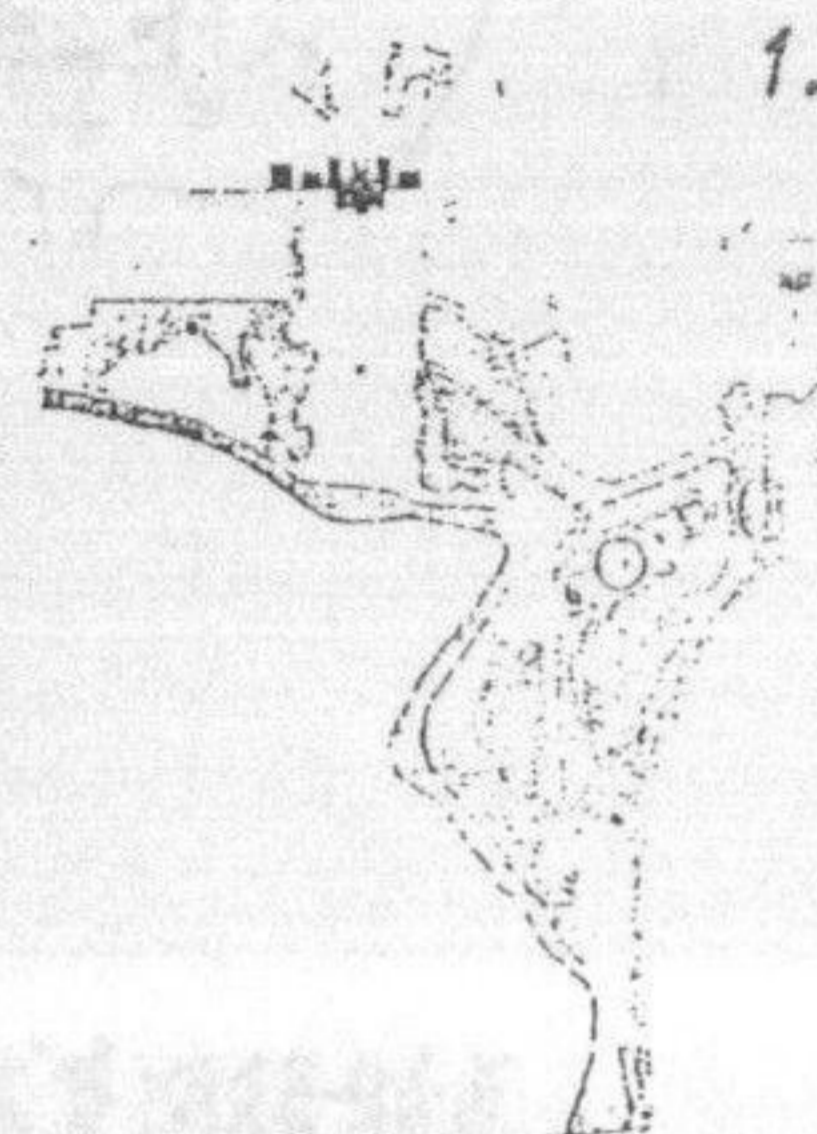
7. 法国17世纪古典园林最有影响的人物是\_\_\_\_\_,其代表作是\_\_\_\_\_和\_\_\_\_\_。

8. 列举二处在罗马的著名别墅园林\_\_\_\_\_、\_\_\_\_\_。

9. 著名哥特式建筑举三例\_\_\_\_\_、\_\_\_\_\_、\_\_\_\_\_。

## 三、识图题(24%) 写出下列园林的名称和国家。

- |       |       |    |       |
|-------|-------|----|-------|
| 1. 名称 | _____ | 国家 | _____ |
| 2. 名称 | _____ | 国家 | _____ |
| 3. 名称 | _____ | 国家 | _____ |
| 4. 名称 | _____ | 国家 | _____ |
| 5. 名称 | _____ | 国家 | _____ |
| 6. 名称 | _____ | 国家 | _____ |
| 7. 名称 | _____ | 国家 | _____ |
| 8. 名称 | _____ | 国家 | _____ |

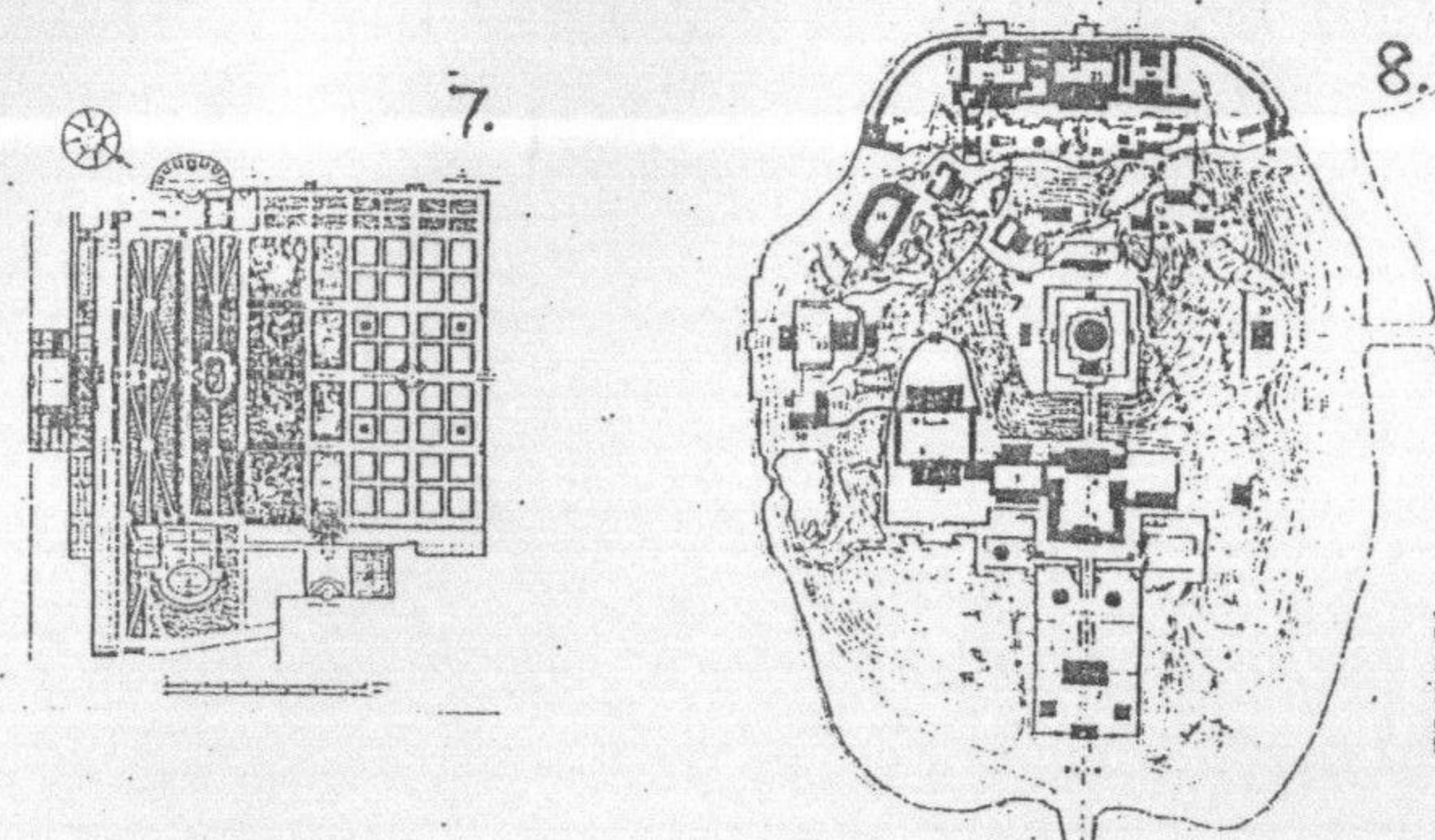
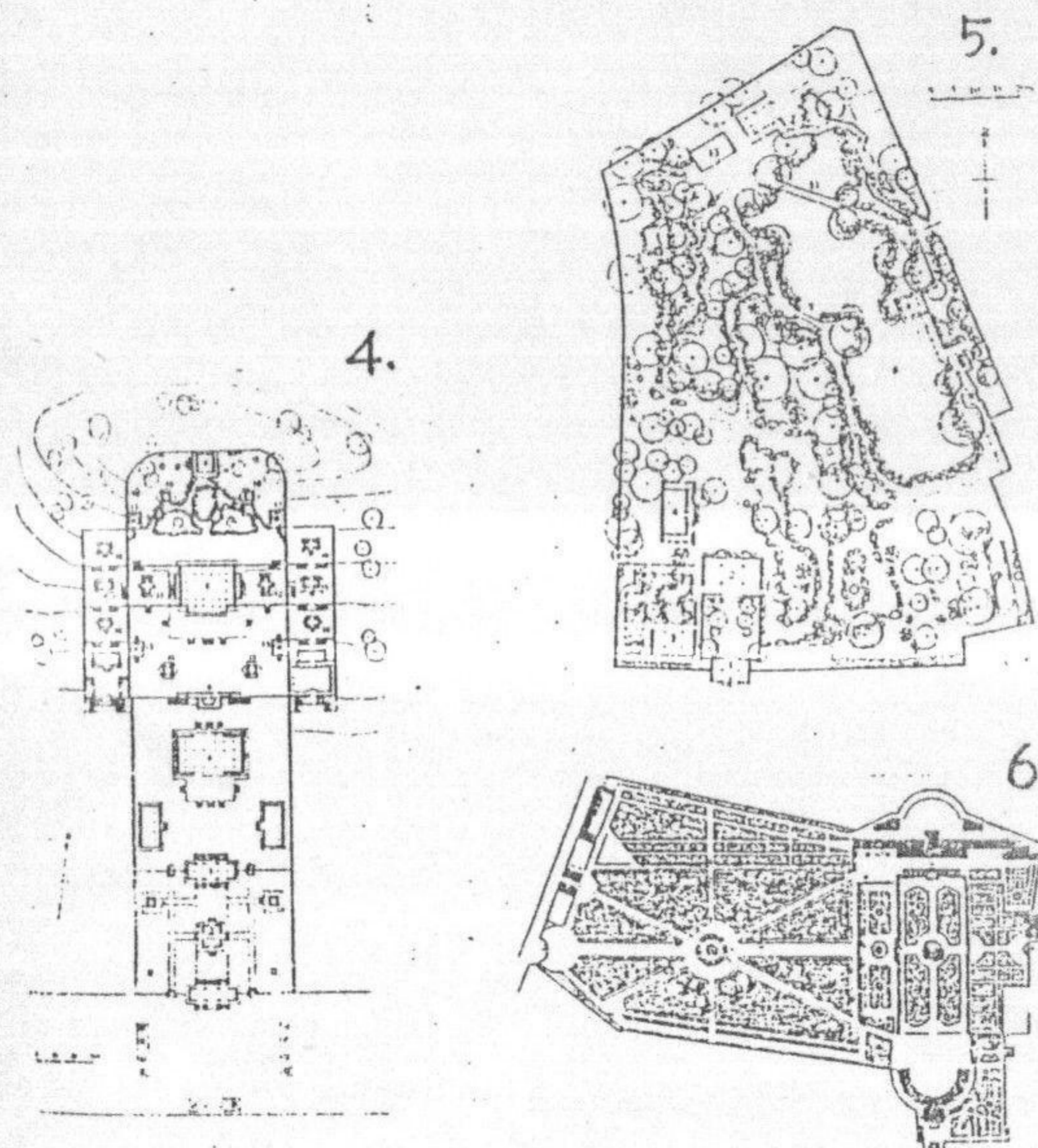


同济大学一九九九年硕士生入学考试试题

考试科目: 园林史

编号: 36-2

答题要求: 文字、图示清晰、明确



四. 绘图题(8%)

1. 古罗马五柱式的立面图
2. 日本寝殿造园林典型平面图

五. 阐述题(26%)

1. 从日本园林的起源与演变过程, 试述其风格特点.
2. 写出法国古典主义园林与中国古典园林的差异.