

# 华中科技大学

## 二〇〇二年招收硕士研究生入学考试试题

考试科目: 城市规划原理

适用专业: 城市规划与设计

(除画图题外, 所有答案都必须写在答题纸上, 写在试题上及草稿纸上无效, 考完后试题随答题纸交回)

### 一、名词解释(每题 3 分, 共 12 分)

- 1. 城市化;
- 2. 城市规划区;
- 3. 两证一书;
- 4. 容积率。

### 二、选择题(每题 1 分, 共 33 分)

1. 《雅典宪章》中最核心的城市规划思想是\_\_\_\_。  
A. 城市交通; B. 人居环境; C. 功能分区; D. 基础设施。
2. “调查——分析——规划”的现代城市规划方法是由谁提出的?  
A. 霍华德; B. 格迪斯; C. 柯布西埃; D. 西谛。
3. 一般城市人均居住用地指标为\_\_\_\_。  
A.  $25 \sim 30 \text{m}^2/\text{人}$ ; B.  $18 \sim 28 \text{m}^2/\text{人}$ ; C.  $20 \sim 30 \text{m}^2/\text{人}$ ; D.  $25 \sim 35 \text{m}^2/\text{人}$ 。
4. 城市用地按大类、中类、小类三级进行划分, 以满足不同层次规划的要求。城市用地共分\_\_\_\_。  
A. 10 大类、46 中类和 73 小类; B. 9 大类、45 中类和 73 小类;  
C. 12 大类、46 中类和 72 小类; D. 10 大类、45 中类和 72 小类。
5. 以下哪一项不是土地利用总体规划编制的原则\_\_\_\_。  
A. 严格保护基本农田; B. 控制非农业建设占用农用地;  
C. 方便建设用地的使用; D. 提高土地利用效率。

试卷编号: 331

共 1 页  
第 1 页

6.以下哪一项关于城镇体系含义的描述是错误的?

- A. 城镇体系属于一个区域;
- B. 城镇体系是个城镇群体;
- C. 城镇体系是相对集聚在一起的组合城镇;
- D. 城镇群体之间有职能、等级、空间网络的联系。

7.规划地块内各类绿地面积的总和占规划地块面积的比率称为\_\_\_\_\_。

- A. 绿化率;            B. 绿地率;            C. 绿化覆盖率。

8.以下的哪些设施属于城市取水工程设施?

①城市水源 ②取水构筑物 ③自来水厂 ④一级泵站 ⑤二级泵站

- A. ①②③;            B. ②③④;            C. ①②④;            D. ②④⑤。

9.室外消防栓的间距应小于或等于\_\_\_\_\_。

- A. 150m;            B. 120m;            C. 100m;            D. 50m。

10.历史文化名城是指\_\_\_\_\_。

- A. 历史悠久、文化遗产丰富的城市;
- B. 历史上的古都、古城和古村;
- C. 保存文物特别丰富、具有重大历史价值和革命意义的城市;
- D. 具有重大历史价值和革命意义的各类城镇。

11.我国历史文化遗产保护规划的主要依据\_\_\_\_\_。

- A. 《文物保护法》、《环境保护法》;
- B. 《城市规划法》、《文物保护法》;
- C. 《环境保护法》、《城市规划法》。

12.《中华人民共和国城市规划法》明确规定:“县级人民政府所在地镇的城市规划,由\_\_\_\_\_负责组织编制。”

- A. 所属地市人民政府负责组织编制;
- B. 县级人民政府负责组织编制;
- C. 镇级人民政府负责组织编制;
- D. 县和镇级人民政府负责组织编制。



- A. 教育科研用地和居住用地; B. 居住用地和公共绿地;  
C. 二者皆为居住用地; D. 教育科研用地和公共绿地。
21. “有机疏散”理论是谁提出的:  
A. 霍华德; B. 柯布西埃 C. 沙里宁; D. 索菲亚·玛塔
22. 省会城市总体规划是由谁审批?  
A. 省政府审批, 国务院备案;  
B. 国务院审批;  
C. 所在城市人民政府审批、国务院备案;  
D. 省政府和国务院共同审批。
23. 城市化的推动力不包括哪一类?  
A. 农业发展; B. 工业化; C. 第三产业崛起; D. 生活现代化。
24. 在经济全球化时代, 全球性中心城市的主要层面是\_\_\_\_\_。  
A. 管理与控制; B. 金融与贸易;  
C. 制造和装配; D. 研究与开发
25. 城市人均建设用地指标是指\_\_\_\_\_。  
A. 各项城市建设用地总面积与城市人口之比值;  
B. 各项城市总体规划用地总面积与城市人口之比值;  
C. 城市规划区总面积与城市人口之比值;  
D. 单位为  $\text{hm}^2/\text{人}$
26. 城市总体布局的核心是\_\_\_\_\_。  
A. 城市用地规模; B. 城市用地功能组织;  
C. 工业用地布局; D. 居住用地布局。
27. 城市总体规划中可以不包括以下哪一项内容?  
A. 确定规划期内城市人口及用地规模, 规定城市规划区范围;  
B. 确定城市用地发展方向和布局结构, 确定市、区中心区位置;  
C. 竖向规划设计;  
D. 确定城市对外交通系统的结构和布局, 编制城市交通运输和道路系

统规划。

28.在控制性详细规划中,不属于城市设计控制的有\_\_\_\_\_。

- A.建筑体量; B.建筑后退红线;  
C.建筑色彩; D.建筑形式; E.天际轮廓线

29. 在控制性详细规划中, 下列属于指导性指标的有

- A.建筑高度: B.交通出入口方位:  
C.停车泊位及其他需配套的设施: D.人口容量

30.城市规划行政主管部门与其他各行政主管部门是\_\_\_\_\_的职能机构。

- A. 平行;    B. 垂直;    C. 平行、垂直相结合;    D. 相交

31.行政合法性原则的核心是\_\_\_\_\_。

- A.行政统一; B.行政公开;  
C.依法行政; D.行政合法;

32.我国规定的城市人均公共绿地指标为\_\_\_\_\_。

- A.  $\geq 6\text{m}^2$ ;      B.  $\geq 7\text{m}^2$ ;      C.  $\geq 9\text{m}^2$ ;      D.  $\geq 12\text{m}^2$ ;

33. 土地利用总体规划可分为\_\_\_\_\_土地利用总体规划等层次。

- A. 国家、省、地、县级;                      B. 省、地、县、乡级;  
C. 国家、省、地、县、乡级;                D. 国家、省、县、乡级;

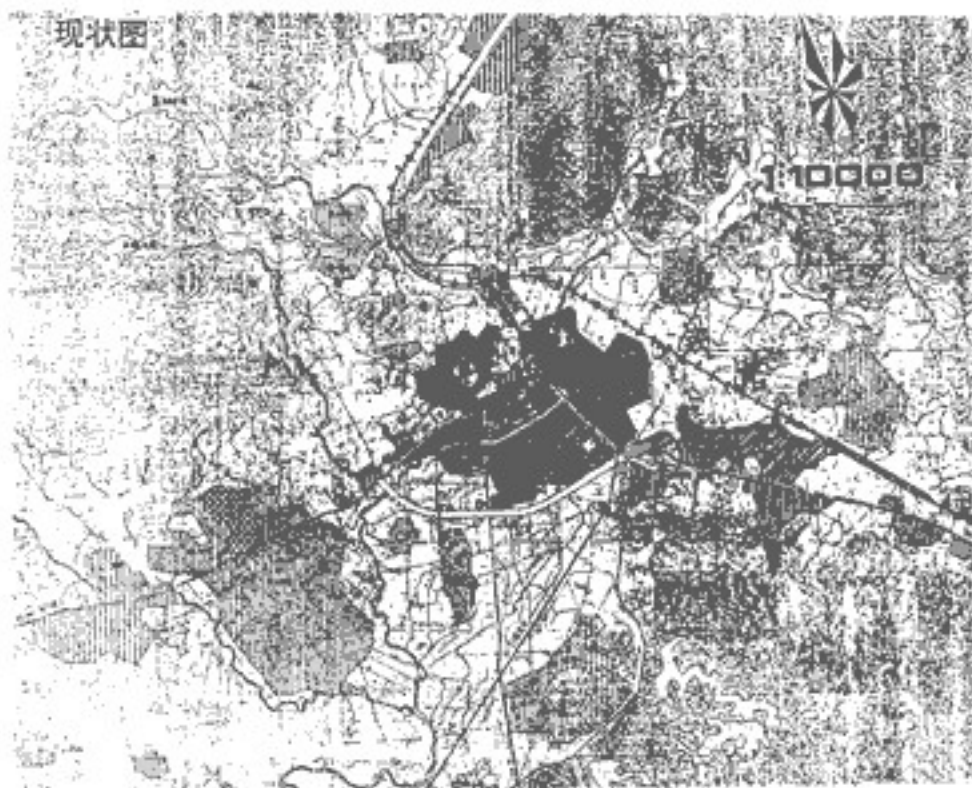
### 三、简述题(每题 10 分, 共 40 分)

- 1.试述《雅典宪章》与《马丘比丘宪章》的基本观点及思想上的差异。
- 2.分区规划的主要内容。
- 3.制作一张城市建设用地平衡表(用地只分大类)。
- 4.我国城市旧城更新中的主要矛盾及其产生的原因。

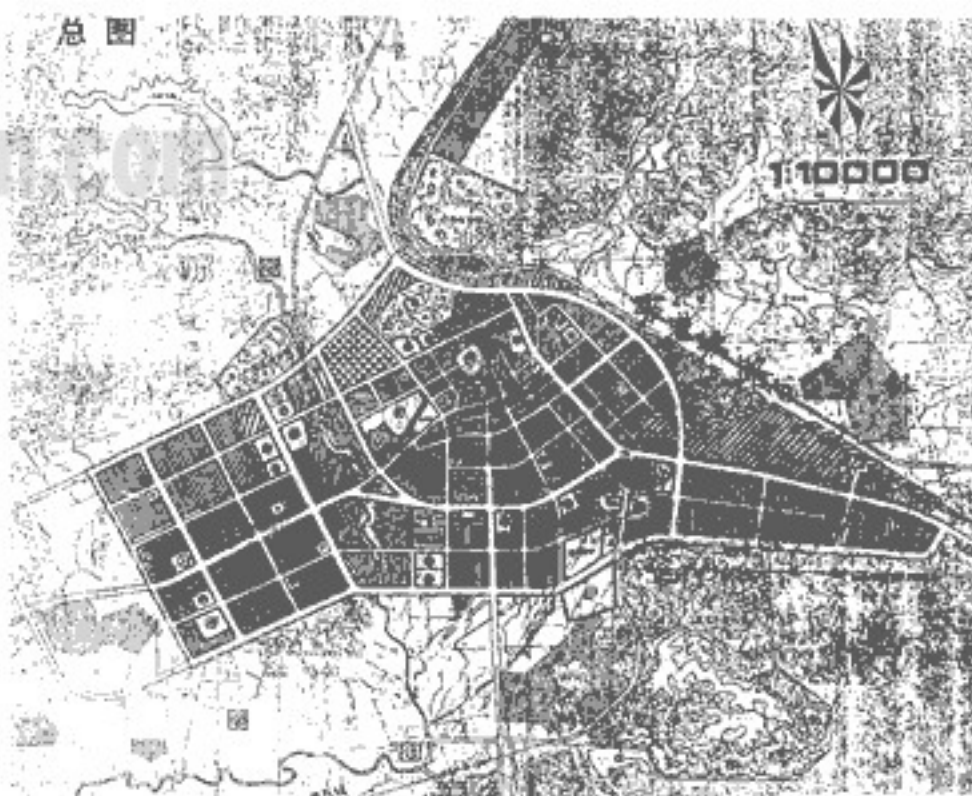
#### 四、分析题(15分)

某一县城总体规划共有 A、B、C 三个方案，试比较各方案的主要优缺点。

(方案见附图)



现状图



方案A.

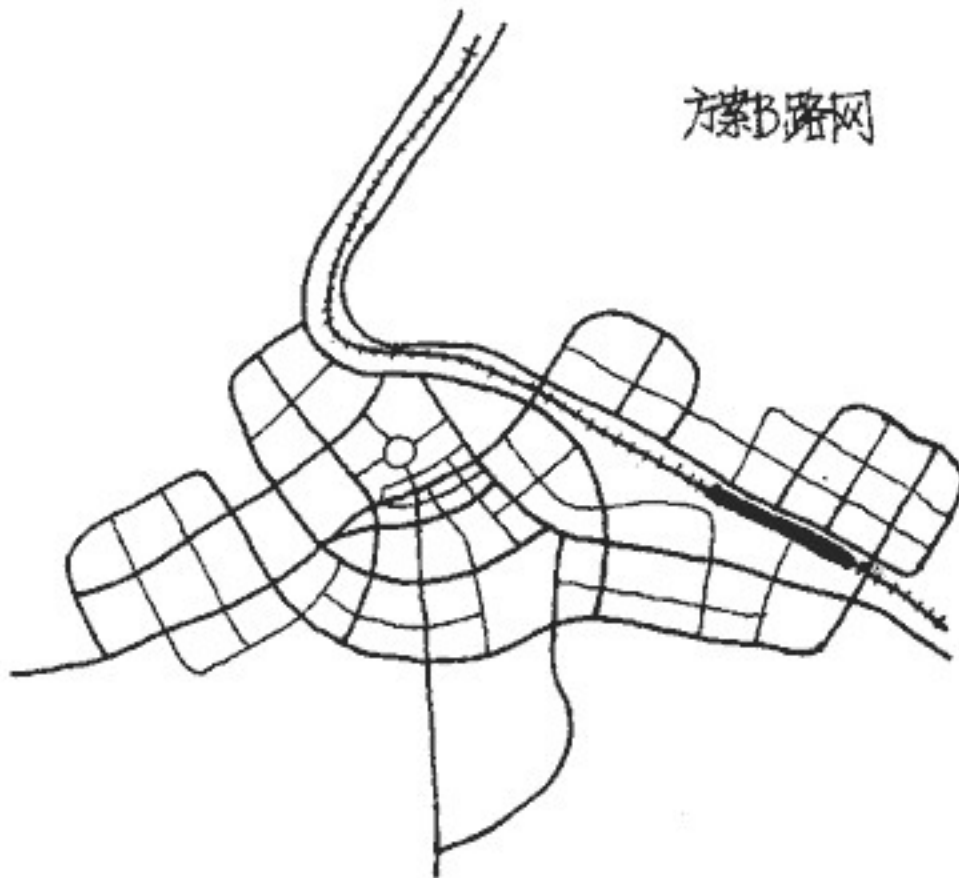
方案 B.



方案 C.



方案B路网



方案C路网

