

7.3

17

# 同济大学 2000 年 硕士生入学考试试题

考试科目： 园林史

编号： 8 — 1  
2

答题要求： 文字、图示、清晰、明确

## 一、名词解释 (24%)

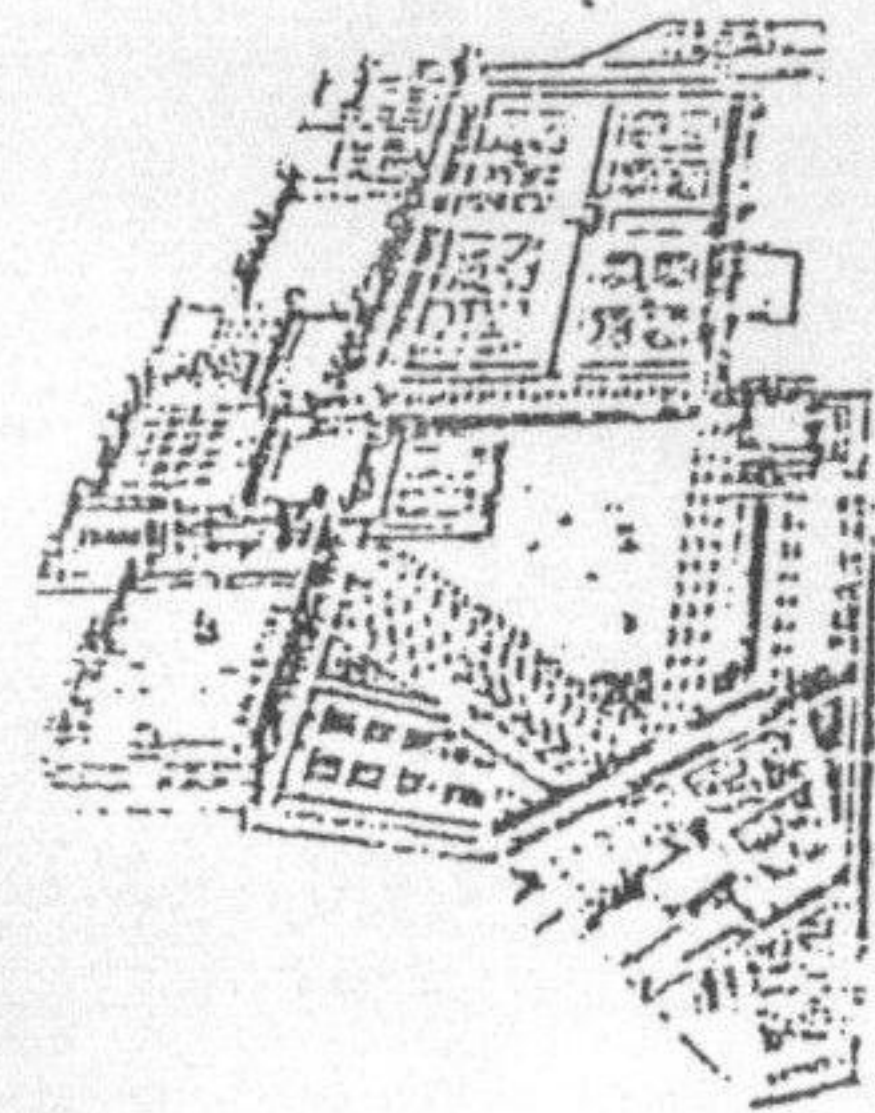
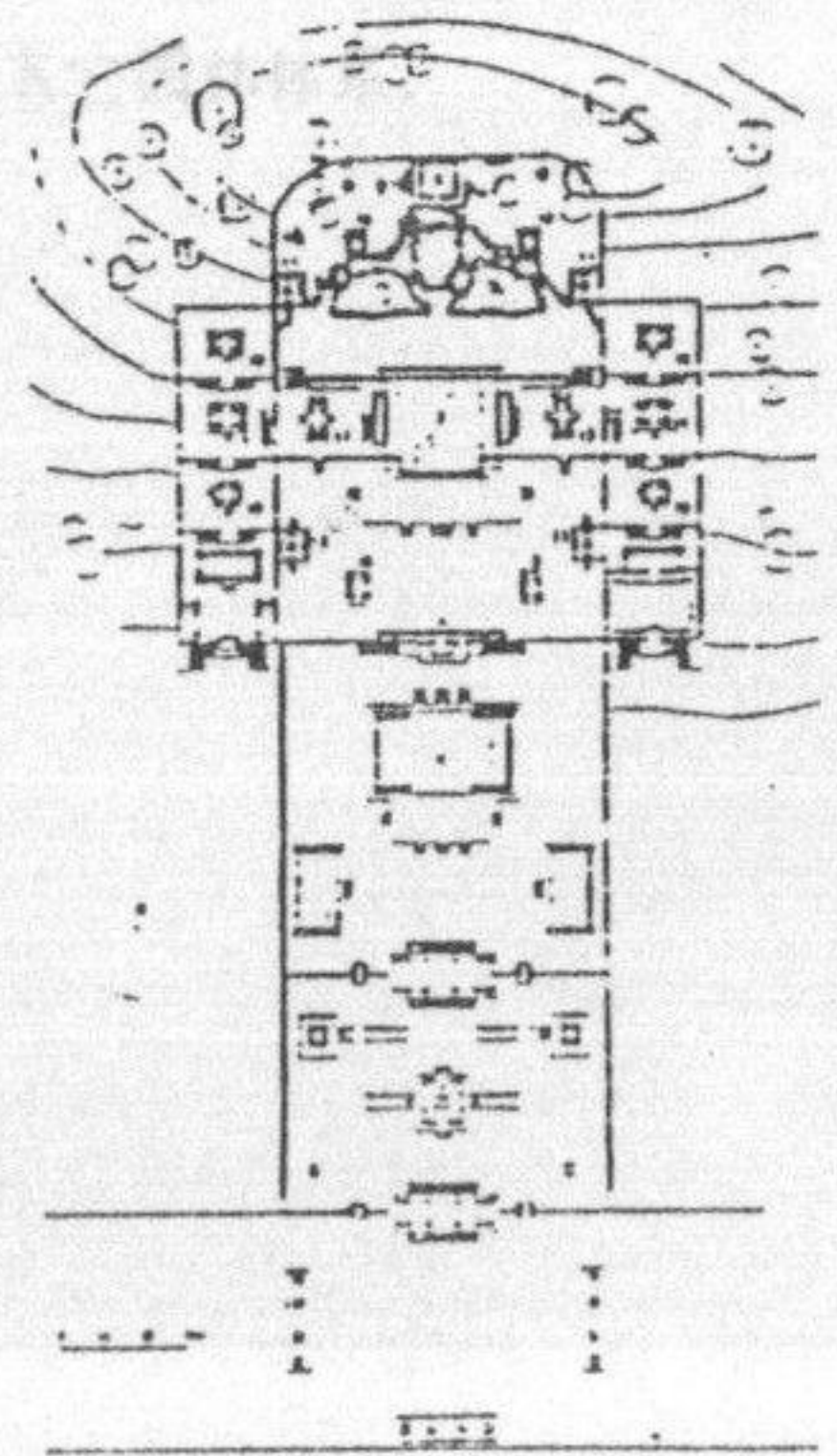
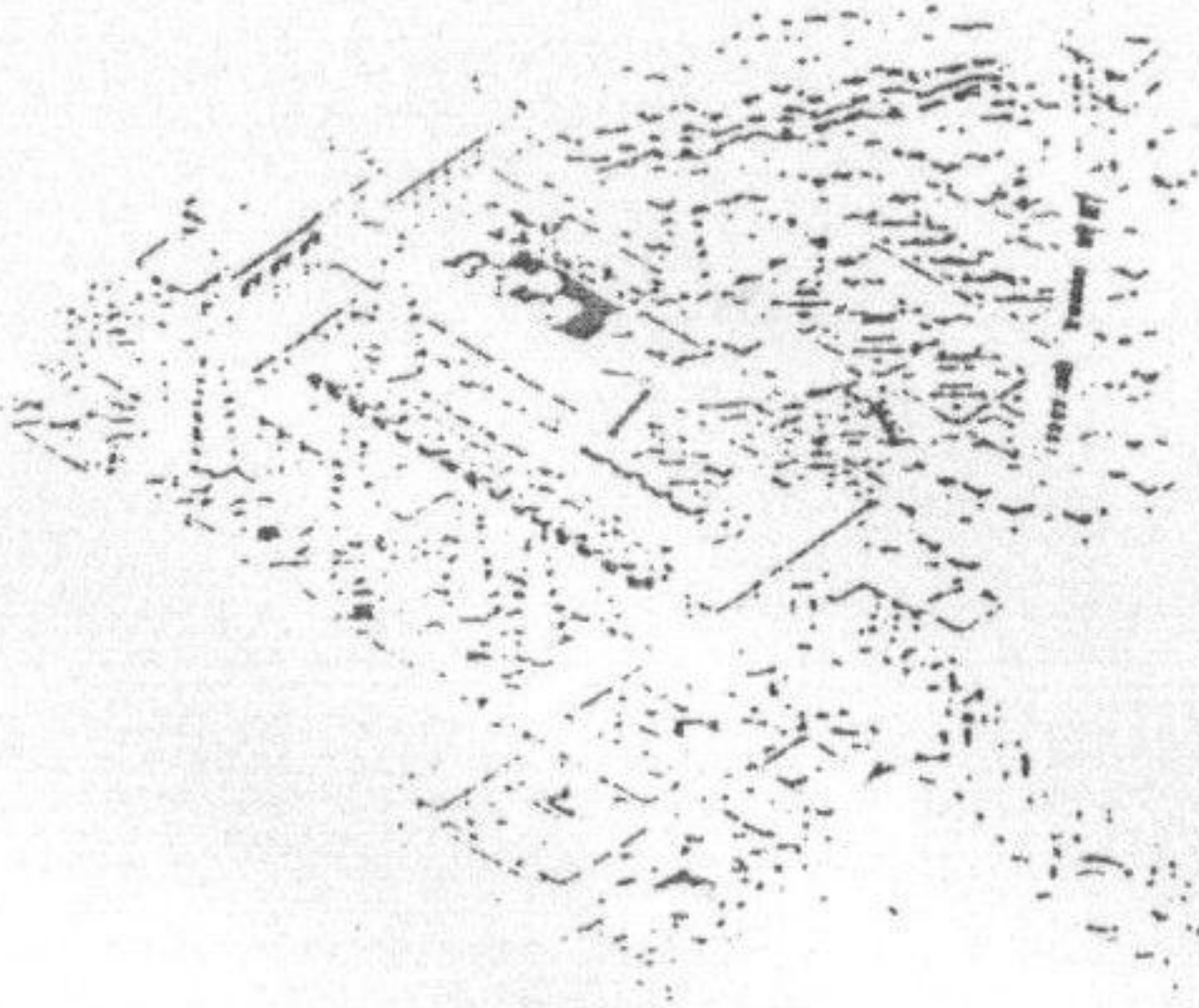
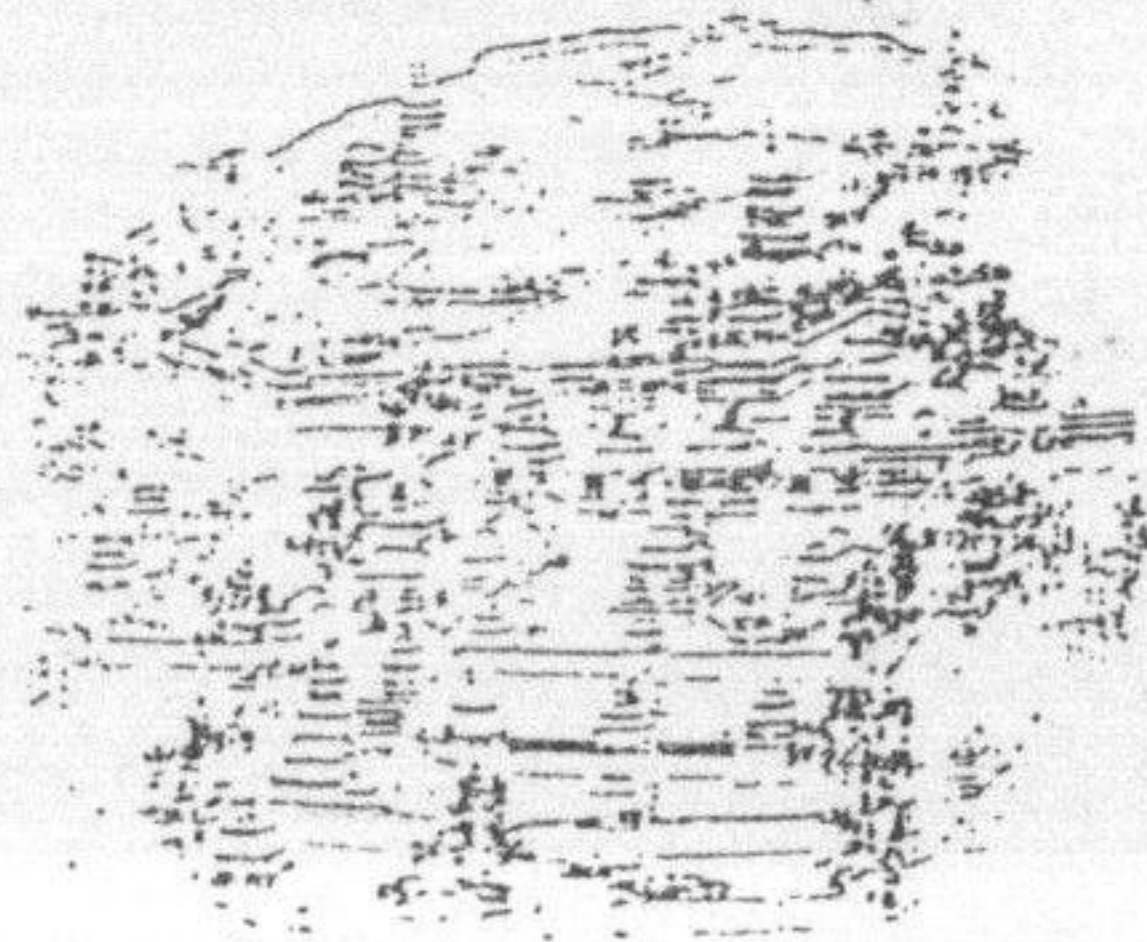
- |       |              |
|-------|--------------|
| 1. 斗拱 | 5. 古罗马列柱中庭   |
| 2. 榭  | 6. 悬崖墓       |
| 3. 假山 | 7. 古埃及墓室     |
| 4. 囿  | 8. 隐室 (hama) |

## 二、填充题 (18%)

- 我国文献记载中已知最早的帝王苑囿是\_\_\_\_\_。
- 《扬州画舫录》是\_\_\_\_\_朝(代)时所著,其作者是\_\_\_\_\_。
- 最早见于史籍记载的我国园林形式是\_\_\_\_\_。园林里面的主要构筑物是\_\_\_\_\_。
- 秦汉上林苑是中国园林史上著名的帝王苑囿,其中出现的“一池三山”格局是指\_\_\_\_\_、\_\_\_\_\_、\_\_\_\_\_。
- 试写出唐代著名二座别墅名\_\_\_\_\_、\_\_\_\_\_。
- 美国纽约中央公园的设计者是\_\_\_\_\_。他首次提出景观建筑师的专门名称,在 1901 年\_\_\_\_\_大学创立景观建筑学系,第一次有了较完整的景观培养课程。
- 伊斯兰造园中常用十字形水渠,其来源于\_\_\_\_\_古兰经中所述达达尼耶尔、\_\_\_\_\_、\_\_\_\_\_五条生命之河。
- 试举意大利巴洛克风格园林二处\_\_\_\_\_、\_\_\_\_\_。
- 1777 年出版的英国园林著作《东方园林艺术论》的作者是\_\_\_\_\_。

## 三、识图题 (24%) 写出下列园林的名称及国家

- |            |         |
|------------|---------|
| 1. 名称_____ | 国家_____ |
| 2. 名称_____ | 国家_____ |
| 3. 名称_____ | 国家_____ |
| 4. 名称_____ | 国家_____ |
| 5. 名称_____ | 国家_____ |
| 6. 名称_____ | 国家_____ |
| 7. 名称_____ | 国家_____ |
| 8. 名称_____ | 国家_____ |





1818

# 同济大学 2000 年 硕 士 生 入 学 考 试 试 题

考试科目： 园林史

编号： 8 - 2

答题要求： 文字、图示、清晰、明确

## 四、绘图题 (8%) 任选二题

1. 拙政园“香洲”立面
2. 意大利朗脱别墅花园平面
3. 留园拙峰轩庭园平面

## 五、论述题 (26%)

1. 中国古典园林有哪些特点，以区别于世界上其它园林体系。
2. 试述意大利台地园的演变及风格特点。

