

014

课程名称：经济学（含宏观、微观经济学） 代码 813

(请将答案按题号写在答题纸上，考生不得在此试题上写答案，如填写一律无效)

## 第一部分：选择题(每题 1.5 分，共 75 分)

说明：可选择的答案中只有一个正确答案，多选按错答处理，答案务必按顺序写在答题纸上。

- (1) 对于一个发达的市场经济，下列哪一项对政府作为社会福利的保障者的角色存在——
- A. 政府制定规范厂商和个人行为的法律框架。
  - B. 政府做出生产什么和生产多少的决策。
  - C. 政府提供市场所不能提供的商品和劳务。
  - D. 政府救济生活困难的人。
  - E. 政府对居民收入进行再分配。
2. “中国应该确保 95% 的粮食自给率”这一说法是——
- A. 规范经济学分析
  - B. 实证经济学分析
  - C. 福利经济学分析
  - D. 微观经济学分析
  - E. 宏观经济学分析
3. 在经济学中，“选择”之所以具有重要性主要是因为——
- A. 所有类型的经济都要靠市场机制形成价格
  - B. 人们的消费欲望是无限的
  - C. 用于满足人们各种需要的资源是有限的
  - D. 人们的行为都是为了自己的私利
  - E. 政府对市场的影响很有限
4. 在一个时期内生产出来的粮食、电视机和汽车数是生产者对于——回答的基本问题？
- A. 这些商品如何是被生产出来的
  - B. 生产什么和生产多少
  - C. 这些商品是为谁生产的
  - D. 如何组织生产
  - E. 这些商品应如何销售
5. 经济学家说自愿交易是互利的，下面哪一项是常用假设——
- A. 自愿交易要求买卖双方有相同的讨价还价能力，能使双方效用都得到提升。
  - B. 互利交易要求个人有不同的偏好。
  - C. 交易中的一方会利用拥有内部信息的优势占取更多利益。
  - D. 互利交易要求个人拥有不同数量的商品。
  - E. 互利交易要求个人拥有不同数量的生产要素。

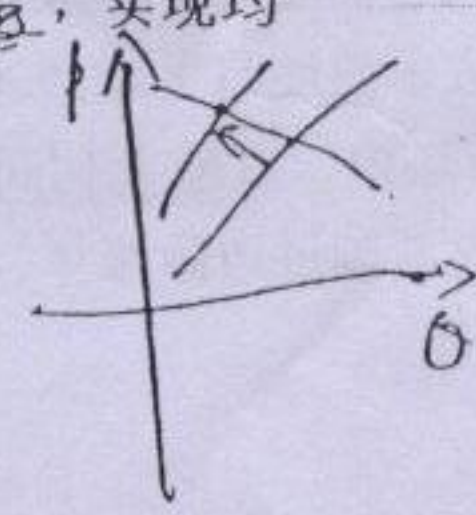
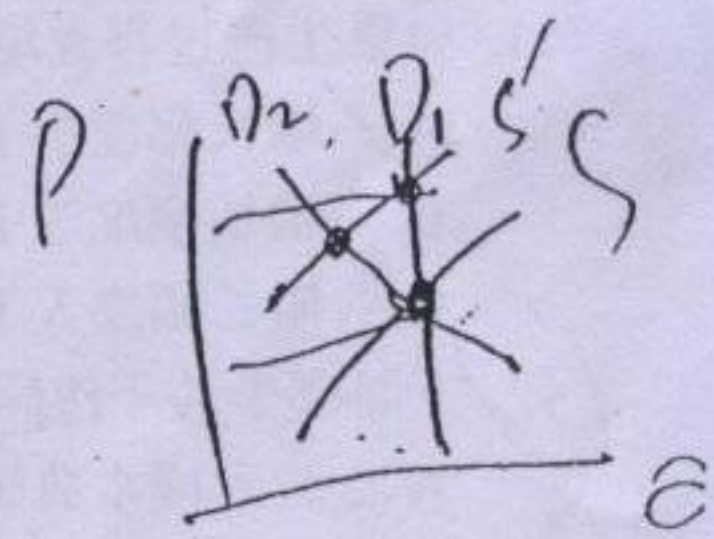
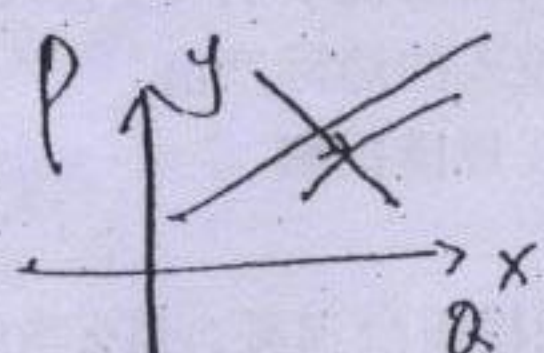


6. 某商品的替代品价格上升一般会导致\_\_\_\_\_。
- ☐ A. 该商品的需求量沿着需求曲线减少
  - ☒ B. 该商品的需求曲线右移
  - ☐ C. 消费者减少所有商品的消费数量
  - ☐ D. 该商品的需求曲线左移
  - ☐ E. 该商品的需求量沿着需求曲线增加
7. 假定需求的价格弹性等于-0.85, 以下哪一句陈述对该参数做出正确的解释?
- ☒ A. 价格每上升10%, 需求数量下降8.5%。
  - ☐ B. 价格每上升0.85%, 需求数量下降1%。
  - ☐ C. 价格每上升1%, 需求数量增加0.85%。
  - ☐ D. 需求数量每增加1%, 价格下降0.85%。
  - ☐ E. 需求数量每增加1%, 价格上升0.85%。
8. 商品价格上涨的收入效应会引起消费者减少该种商品的消费, 这是因为\_\_\_\_\_。
- ☐ A. 这种商品价格相对于其他商品变得贵了
  - ☐ B. 这种商品的价格相对于其他商品变得便宜了
  - ☐ C. 消费者可以花费的钱少了
  - ☐ D. 价格变化引起购买力上升
  - ☒ E. 价格变化引起购买力下降
9. 一般而言, 当某商品\_\_\_\_\_时, 需求的价格弹性较小。
- ☐ A. 为低档商品
  - ☐ B. 有相似的替代品
  - ☒ C. 缺乏相似的替代品
  - ☐ D. 需求的收入弹性大
  - ☐ E. 是奢侈品
10. 一种商品的生产函数可以反映出\_\_\_\_\_。
- ☐ A. 利用不同数量可变投入可以得到的该商品数量
  - ☐ B. 生产给定数量该商品所需要的可变投入的各种组合
  - ☐ C. 每单位新增可变投入的边际产出
  - ☐ D. 生产过程是否存在规模报酬
  - ☒ E. 所有上述各项
11. 如果生产过程表现为规模报酬递减, 那么当所有投入等比例增加时, 产量\_\_\_\_\_。
- ☒ A. 增长幅度小于投入增长幅度
  - ☐ B. 增长幅度等于投入增长幅度
  - ☐ C. 增长幅度大于投入增长幅度
  - ☐ D. 保持不变
  - ☐ E. 增长的幅度无法确定
12. 下面哪个关于边际成本曲线和平均成本曲线之间关系的说法是正确的?
- ☐ A. 边际成本曲线可以交于平均成本曲线上的任何一点。
  - ☒ B. 边际成本曲线与平均成本曲线交于平均成本曲线的最低点。
  - ☐ C. 边际成本曲线与平均成本曲线交于边际成本曲线的最低点。
  - ☐ D. 边际成本曲线与平均成本曲线交于边际成本曲线的最高点。
  - ☐ E. 边际成本曲线与平均成本曲线不相交。
13. 在竞争性市场中, 以最大利润为目标的厂商根据\_\_\_\_\_的准则确定产量。
- ☐ A. 边际收益超过边际成本
  - ☐ B. 边际成本超过边际收益



- ☒ C. 边际收益等于边际成本  
☐ D. 总成本等于总收益  
☐ E. 总收益等于边际收益
14. 若  $FC$ =不变成本,  $Q$ =产量,  $MC$ =边际成本,  $TC$ =总成本,  $VC$ =可变成本, 则  $MC$  等于\_\_\_\_\_。
- ☐ A.  $TC / Q$   
☒ B.  $TC$  的变化 /  $Q$  的变化  
☐ C.  $TC$  的变化 /  $FC$  的变化  
☐ D.  $FC$  的变化 /  $TC$  的变化  
☐ E.  $VC$  的变化 /  $TC$  的变化
15. 如果劳动是唯一的可变投入并且其边际产出递增, 那么总成本曲线的斜率\_\_\_\_\_。
- ☐ A. 为正并且越来越大  
☒ B. 为正并且越来越小  
☐ C. 为正并且保持不变  
☐ D. 为负并且越来越大  
☐ E. 为负并且越来越小
16. 低于均衡价格的任何价格水平都会导致\_\_\_\_\_。
- ☒ A. 供给量小于需求量  
☐ B. 供给量大于需求量  
☐ C. 消费者买到他们想买的全部商品  
☐ D. 卖方无法卖出他们想出售的全部商品  
☐ E. 价格下降
17. 某商品的价格上升时, 供给量沿着市场供给曲线增加的原因是\_\_\_\_\_。
- ☐ A. 有更多的厂商愿意进入市场生产该商品  
☒ B. 市场上现有的每个厂商都愿意生产更多的该商品  
☐ C. 厂商用该商品替代其他商品  
☐ D. 消费者愿意得到更多的该商品  
☐ E. A 和 B
18. 竞争性市场中, 当技术变化导致供给曲线向右方移动而需求曲线位置不变时, 新的均衡与原有的均衡相比可能出现\_\_\_\_\_。
- ☐ A. 商品供给过剩  
☒ B. 市场均衡价格下降和供给数量增加  
☐ C. 市场均衡价格上升和供给数量增加  
☐ D. 市场均衡价格上升和需求数量减少  
☐ E. 市场均衡价格下降和商品供给减少
19. 一种商品需求的价格弹性越大, 对该商品消费征收从量税后, \_\_\_\_\_。
- ☐ A. 均衡状态变化更主要地表现为价格改变, 而不是数量改变。  
☒ B. 均衡状态变化更主要地表现为数量改变, 而不是价格改变。  
☐ C. 生产者剩余损失越小。  
☐ D. 消费者承受的税收负担越大。  
☐ E. 政府的税收额越大。
20. 如果化肥价格上升, 在其它因素不变的条件下, 粮食供给曲线会左移, 实现均衡时粮食交易量会减少, 均衡价格会上升。
- ☒ A. 左移: 减少: 上升  
☐ B. 左移: 增加: 下降  
☐ C. 左移: 减少: 下降  
☐ D. 右移: 减少: 下降

注意





E. 右移: 减少: 上升

21. 一个行业的集中度越低, \_\_\_\_。

- A. 该行业的竞争程度越弱 34
- B. 该行业只有很少几个企业的可能性越大
- C. 该行业中一般企业面临的需求曲线的价格弹性越小 大
- D. 该行业中一般企业提高自己产品出售后销售量下降得越少 96
- E. 该行业中一般企业的边际收益与出售价格的差额越小

22. 在现实世界中, 卡特尔组织面临的主要困难是, \_\_\_\_。

- A. 消费者不喜欢购买垄断企业生产的产品
- B. 它不能决定每个成员生产多少
- C. 它不能决定每个成员可以索取的价格
- D. 卡特尔的每个成员都有欺骗其他成员的动机
- E. 组织卡特尔是非法行为 25

23. 如果利率\_\_\_\_, 那么一年后的 100 元的现值将\_\_\_\_。

- A. 提高: 增加
- B. 不变: 不变
- C. 下降: 增加
- D. 下降: 下降
- E. 不变: 增加

24. 可借出资金的供给与利率变化\_\_\_\_, 这是因为\_\_\_\_。

- A. 成反比: 利率上升会减少存款动机
- B. 成正比: 利率上升会增加存款动机 存款↑, 可借出资金↑
- C. 成反比: 利率上升会增加存款动机
- D. 成正比: 利率上升会减少存款动机
- E. 无关: 储蓄只取决于收入

25. 用  $W$  表示投入品价格,  $MP$  表示边际产量,  $P$  表示商品价格, 假定投入的边际产

出递减。在竞争性市场中, 若有  $\frac{W_1}{MP_1} < P < \frac{W_2}{MP_2}$ , 那么厂商应该\_\_\_\_。

- A. 增加第一种投入, 减少第二种投入。
- B. 增加第一种投入, 第二种投入保持不变。
- C. 减少第一种投入, 第二种投入保持不变。
- D. 增加第二种投入, 第一种投入保持不变。
- E. 减少第二种投入, 第一种投入保持不变。

26. 在一般均衡模型中, 某一种商品的供给数量取决于\_\_\_\_。

- A. 该商品的价格
- B. 劳动工资率
- C. 消费者对其他商品的偏好
- D. 其他商品的边际成本
- E. 所有上述各项

27. 经济处于帕累托有效状态时会出现以下哪种情况?

- A. 社会实现了收入的公平分配。
- B. 任何一种商品的产量都无法再增加。
- C. 任何一个人的收入都无法再提高。



D/ 不可能通过交易改善所有人的福利。

E. 每个人都实现了最大效用。

2/3 } 28. 市场失灵指的是以下哪种情况? 对资源无效率配置

A. 政府对市场实施全面控制。

B. 依靠市场机制无法保证公平的收入分配。

C. 一些厂商在竞争中破产。

D/ 依靠市场机制无法实现最高经济效率。

E. 企业不再能够自行决定生产 私人

29. 出现 正 的外部性时, 私人收益 低于 社会收益, 但生产者 只得到 收益。

A. 正: 低于: 私人

D. 负: 高于: 社会

B. 负: 低于: 私人

E. 正: 高于: 私人

C. 正: 高于: 社会

30. 以下哪一个表述是正确的?

GMP

A. 国内生产总值只包括公共部门生产的产品。

B. 国内生产总值只包括私人部门购买的产品。

C. 国内生产总值只包括私人部门生产的产品。

D. 国内生产总值只包括公共部门购买的产品。

E. 国内生产总值包括公共部门和私人部门生产的产品。

31. 用收入法计算的国内生产总值等于 工资+利息+利润+租金+间接税和企业转移支付+折旧

A. 消费+投资+政府支出+出口-进口

B. 工资+利息支付+中间投入品成本+间接税+利润

C. 消费+投资+政府支出+进口-出口 支出法

D. 厂商收入-中间投入品成本

E/ 工资+利息支付+间接税+利润 收入法

32. 若可支配收入增加 100 元时消费支出增加 90 元, 相应的边际储蓄倾向是 0.1。

A. 0.05

C. 0.90

E. 1.00

B. 0.10

D. 1.11

3/4 } 33. 人们在经济景气时多储蓄以备为坏年景提供额外消费的理论被称之为 持久收入假说。

A. 持久收入假说 持久收入假说

C. 生命周期假说 生命周期假说

E. 理性预期假说

B. 绝对收入假说

D. 相对收入假说

34. 其他条件不变, 劳动力总量增加 会导致总供给曲线向右移动。

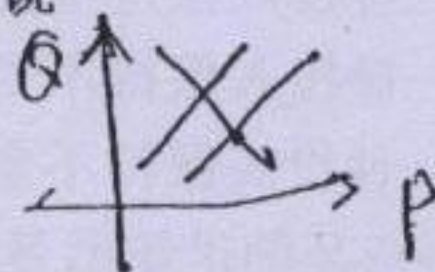
A. 会导致总供给曲线向右移动

B. 会导致总需求曲线向右移动

C. 会导致总供给曲线和总需求曲线都向右移动

D. 不会改变总供给曲线

E. 会导致实际工资上涨



35. 当实际工资调整使劳动市场实现出清时, 国民经济的 总供给曲线是垂直的。

A. 总需求曲线是水平的

D. 总供给曲线是垂直的

B. 总需求曲线是垂直的

E. 总供给曲线向右上方倾斜

C. 总供给曲线是水平的



36. 政府的就业政策通常主要关注降低\_\_\_\_的频率与幅度。

- A. 摩擦性失业
- B. 季节性失业
- C. 周期性失业
- D. 自愿性失业
- E. 结构性失业

37. 如果利息率上升的替代效应正好和收入效应相抵消, 那么\_\_\_\_。

- A. 储蓄曲线几乎是水平的
- B. 储蓄对利息率的变化很敏感
- C. 储蓄曲线几乎是垂直的
- D. 储蓄对利息率的变化富有弹性
- E. 储蓄曲线相对比较平坦

38. 出现滞胀时, 失业、自然失业率, 物价水平趋于\_\_\_\_, \_\_\_\_出现下降。

- A. 高于: 下降: 生产率
- B. 高于: 上升: 总产出
- C. 等于: 上升: 总产出
- D. 等于: 下降: 总需求
- E. 等于: 稳定: 总需求

39. 根据菲利普斯曲线, 当\_\_\_\_出现\_\_\_\_时, 通货膨胀率出现\_\_\_\_。

- A. 价格总水平: 上升: 上升
- B. 投资: 增加: 上升
- C. 利率: 下降: 下降
- D. 总需求: 增加: 上升
- E. 失业率: 上升: 下降

40. 随着\_\_\_\_, 总需求曲线向右移动。

- A. 政府支出的增加或税收的削减
- B. 政府削减财政赤字
- C. 政府增加税收
- D. 政府削减支出
- E. 政府等量削减支出和税收

41. 以下哪一项是传统货币政策理论的信条?

- A. 由于货币政策不能影响利率, 所以它是无效的。
- B. 出现严重的经济衰退时货币政策最为有效。
- C. 出现严重的经济衰退时货币政策失效。
- D. 因为投资不受利率改变的影响, 所以货币政策是无效的。
- E. 货币政策是有效的, 但使用的风险太大。

42. \_\_\_\_的国家有净资本\_\_\_\_。

- A. 出口大于进口: 流入
- B. 出口等于进口: 流出
- C. 出口小于进口: 流出
- D. 出口大于进口: 流出
- E. 出口等于进口: 流入

43. 以下哪一项不是形成先天比较优势的根源?

- A. 受过良好教育的劳动力
- B. 丰富的水资源
- C. 丰富的矿产资源
- D. 丰富的土地资源
- E. 适合农业生产的气候条件

44. 建立在\_\_\_\_基础上的专业化生产可以提高世界总产量。

- A. 绝对优势
- B. 报酬递减规律
- C. 比较优势
- D. 自然选择规律
- E. 风险最小规律

45. 出现下列何种情况时两国会自愿从事相互贸易?

- A. 至少有一个国家希望在贸易中获利。
- B. 两国的边际转换率不相等。



- C. 大国强迫小国接受贸易。  
D. 一国具有绝对优势。  
E. 贸易得益在两个国家间平均分配。
46. 如果两个国家的生产可能性曲线\_\_\_\_, 消费偏好\_\_\_\_, 那么就\_\_\_\_出现互利的贸易。

- A. 相同: 相同: 不可能  
B. 相同: 相同: 可能  
C. 相同: 不同: 不可能

- D. 不同: 相同: 不可能  
E. 不同: 不同: 不可能

47. 对于贸易保护主义得以持续存在的一个解释是, 当两国开展贸易时, \_\_\_\_

- A. 两国都会受损。  
B. 小国肯定受损  
C. 只有一国获益。

- D. 两个国家都获益, 但是两国中都有一些人会受损。  
E. 两国中都有一些人获益, 但是两个国家都受损。

48. 大国采取关税措施保护本国市场会导致该商品的本国市场价格\_\_\_\_, 国际市场  
价格\_\_\_\_。

- A. 上升: 下降  
B. 上升: 上升

- C. 下降: 下降  
D. 下降: 上升

- E. 上升: 不变

49. 假定某国生产一种劳动密集型产品和一种资本密集型产品, 生产过程具有不变规模报酬性质。根据雷布津斯基定理可以推断, 在国际市场商品相对价格保持不变的条件下, 当劳动供给增加一倍时, \_\_\_\_

- A. 两种产品的产量均增加。  
B. 劳动密集型产品产量增加, 资本密集型产品产量不变。  
C. 劳动密集型产品产量不变, 资本密集型产品产量增加。  
D. 劳动密集型产品产量增加, 资本密集型产品产量下降。  
E. 劳动密集型产品产量下降, 资本密集型产品产量增加。

50. 人民币对美元升值会导致进口产品的人民币价格\_\_\_\_, 出口产品的美元价格\_\_\_\_。

- A. 上升: 上升  
B. 下降: 上升

- C. 上升: 下降  
D. 下降: 下降

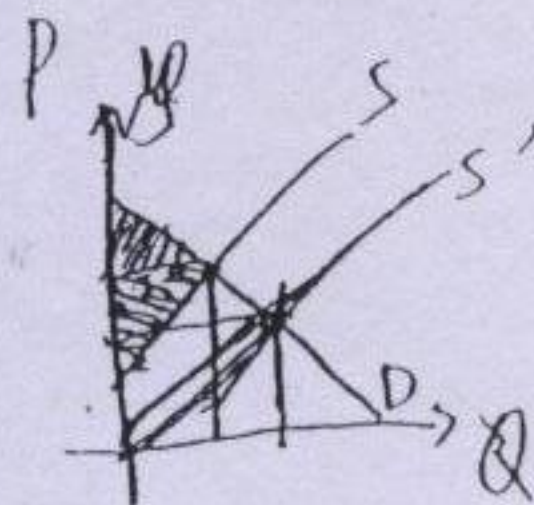
- E. 上升: 不变

第二部分: 分析计算题(共 75 分)

第一题 (10 分): 某行业的所有厂商均使用相同的技术生产一种商品, 厂商的成本函数为  $C_i = 0.1q_i^3 - 2q_i^2 + 15q_i + 10$ 。假定该行业共有 100 个厂商, 试推导得出该行业的市场供给曲线, 并计算当价格为 22.5 时的市场供给量。

解: 当  $Q > 10$  时  $MC > AVC$  故厂商生产  
供给曲线为  $P = MC = 0.3q^2 - 4q + 15$   
当  $Q = 10$  时  $MC = 15, AVC = 10$   
当  $Q < 10$  时  $MC < AVC$  故厂商不生产  
市场供给量为  $Q = 2000 + 100 \times 10 = 2100$   
当  $Q = 2100$  时  $P = 0.3 \times 2100^2 - 4 \times 2100 + 15 = 130000$





级 P233 5 (5 题每题 15 分)

第二题 (15 分): 某商品的市场需求曲线为  $D=80-2P$ , 供给曲线为  $S=40+6P$ 。要求:

- (1) 计算该市场的均衡价格和数量:  $P=S=80-2P=40+6P \Rightarrow P=5 \quad Q=70$
- (2) 政府对每单位商品向生产者提供 4 元补贴后的市场均衡价格和数量:  $S'=40+6(P+4)=80-2P \Rightarrow P=2 \quad Q=76$
- (3) 根据生产者剩余、消费者剩余和纳税人负担 (政府财政收支) 的变化, 就此项政策是否有助于提高社会福利做简要评价。

级 P174 (15 分): 假定一个厂商在完全竞争的产品和要素市场上从事生产经营。其生产函数为  $Q=48L^{0.5}K^{0.5}$ , 其中  $Q$  为产品的年产出吨数,  $L$  为雇佣的工人人数,  $K$  为使用的资本单位数。产品的售价为每吨 50 元, 工人的年工资为 14400 元, 单位资本的价格为 80 元。在短期, 资本为固定要素, 该厂商共拥有 3600 单位的资本。

- (1) 写出厂商短期的劳动需求表达式  $L = \frac{Q^2}{3600 \times 48}$
- (2) 求出短期均衡时的雇佣工人人数  $\frac{14400}{Q} + \frac{3600 \times 80}{Q} = 50$
- (3) 求短期均衡时厂商对劳动的点需求弹性  $E_d = \frac{dL}{dL} \cdot \frac{L}{Q}$
- (4) 该厂商每年的纯利润

级 P180 (10 分): 某国的宏观经济可以用以下方程组表示:

消费:  $C=120+0.8Y$

储蓄:  $S=Y-C$

投资:  $I=80-10r$

货币的交易需求:  $L_1=0.5Y$

货币的投机需求:  $L_2=500-10r$

货币供给:  $M=1000$

假定利率  $r$  只能大于或等于 0。

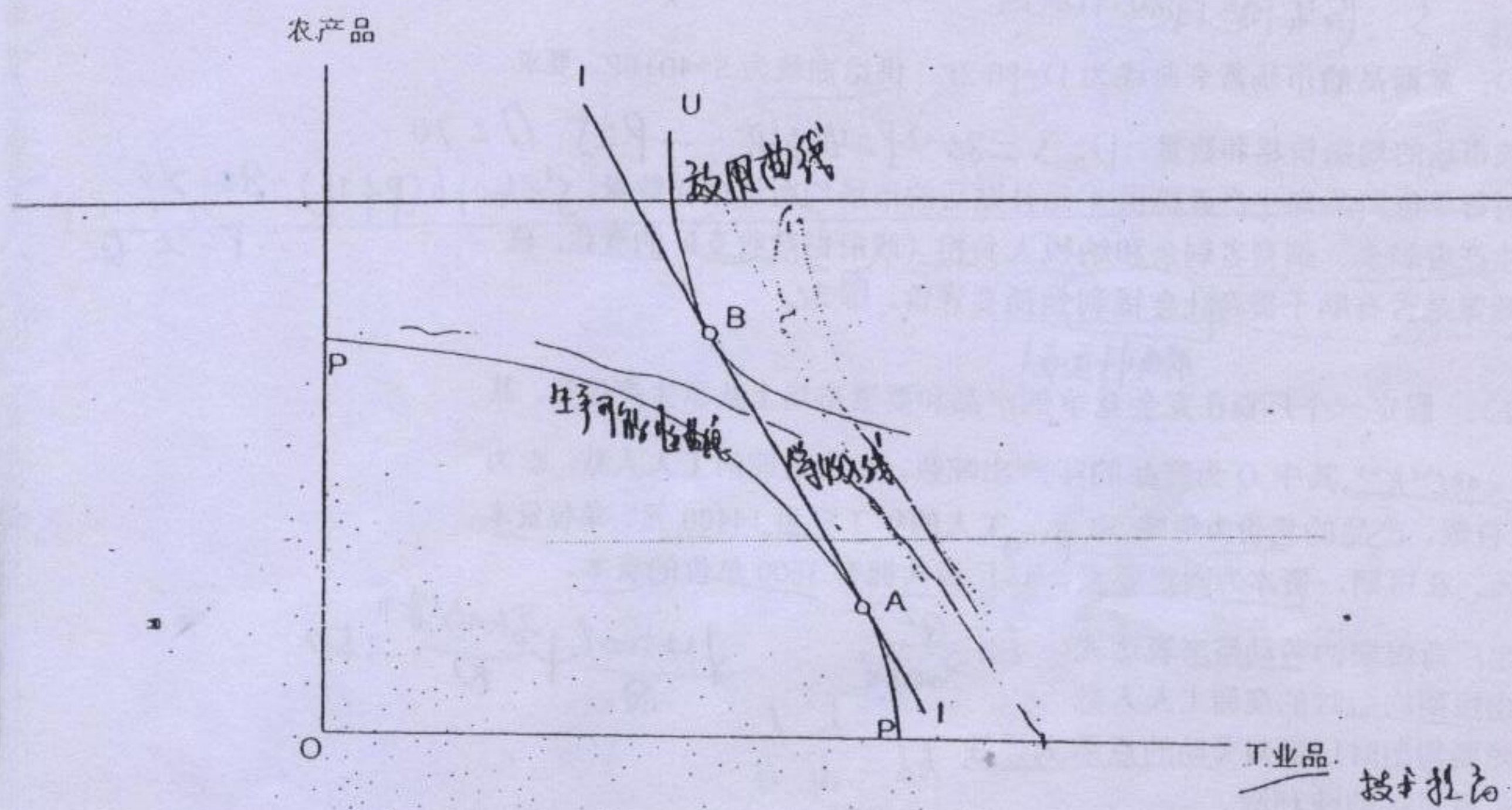
要求:

- (1) 利用上述资料推导出 IS 曲线和 LM 曲线, 计算出均衡解:  $Y=1000, C=720, I=80$
- (2) 如果该国政府将货币供给量提高到 1700, 求解新的均衡:  $L_m: 1700=0.5Y+500-10r \Rightarrow Y=2400, r=-20(?)$
- (3) 比较上述两个结果, 简要阐述其政策含义。

第五题 (10 分): 下图中曲线 PP 为某国际贸易中小国的生产可能性曲线; 曲线 II 为等收入线, 其斜率反映了国际市场上两种商品的比价; U 为该国的一条效用曲线。请借助于图形简要回答以下问题。

- (1) 在该国的要素禀赋不变及农产品生产技术不变的前提下, 若工业品的生产技术得到提高, 该国的生产、消费和贸易格局预期会发生何种变化?
- (2) 这一变化有哪些需要注意的政策含义?





第六题 (15分): 2008年中发生的“金融海啸”对世界经济发展造成了严重冲击, 各国政府纷纷采取政策措施应对这一危机。请根据你自己了解的情况和宏观经济学理论, 针对我国或其他国家采取的主要宏观经济政策做简要评述 (要求在300-500字之间)。

拉动内需, 解决就业, 修路啊。

扩张性财政政策  
货币政策

振兴产业和科技支持实体经济

采取适度宽松的货币政策和积极的财政政策

1. 增发3年期中央银行票据, 减少1年期和3个月中央银行票据发行量, 保证流动性供应